

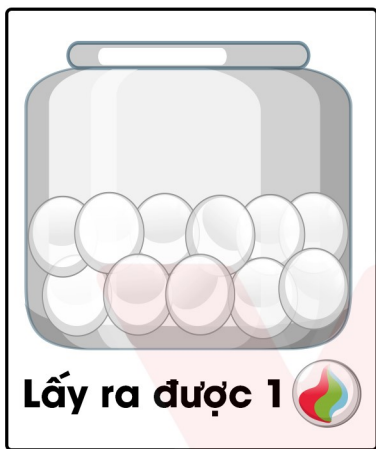
# BÀI 68: Chắc chắn. Có thể. Không thể

1. Nối thẻ ghi từ thích hợp với mỗi hình vẽ:

Chắc chắn xảy ra

Có thể xảy ra

Không thể



2. Có 5 thẻ ghi các số 1, 2, 3, 4, 5. Hãy rút ra một thẻ và đọc số ghi trên thẻ đó.



Sử dụng các từ “chắc chắn”, “có thể”, “không thể” để mô tả đúng khả năng xảy ra của một lần rút thẻ:

## BÀI 68: Chắc chắn. Có thể. Không thể

a) Thẻ được rút ra là thẻ ghi số 0.

.....

b) Thẻ được rút ra là thẻ ghi số 1.

.....

c) Thẻ được rút ra là thẻ ghi số 10.

.....

3. Khoanh vào chữ đặt trước câu trả lời đúng.

Trong hộp có 4 quả bóng đá. Không nhìn vào hộp, Nam lấy 1 quả bóng từ bên trong chiếc hộp đó.

a) Khả năng để Nam lấy được 1 quả bóng đá là:

A. Chắc chắn      B. Có thể      C. Không thể

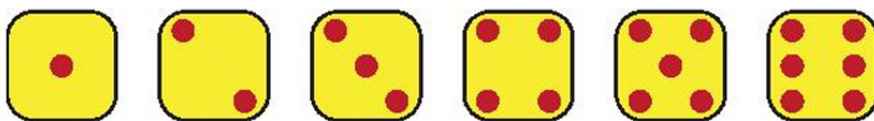
b) Khả năng để Nam lấy được 1 quả bóng rổ là:

A. Chắc chắn      B. Có thể      C. Không thể



4. Khoanh vào chữ đặt trước câu trả lời đúng.

Mai gieo một xúc xắc có 6 mặt như sau:



Khả năng số chấm xuất hiện trên xúc xắc là:

a) 4 chấm:

A. Chắc chắn      B. Có thể      C. Không thể

b) ít hơn 7 chấm:







A. Chắc chắn      B. Có thể      C. Không thể

c) Nhiều hơn 7 chấm:

A. Chắc chắn      B. Có thể      C. Không thể

# BÀI 68: Chắc chắn. Có thể. Không thể

1. Nối thẻ ghi từ thích hợp với mỗi hình vẽ:

Chắc chắn xảy ra	Có thể xảy ra	Không thể
 Lấy ra được 1 	 Lấy ra được 1 	 Lấy ra được 1 

2. Có 5 thẻ ghi các số 1, 2, 3, 4, 5. Hãy rút ra một thẻ và đọc số ghi trên thẻ đó.



Sử dụng các từ “chắc chắn”, “có thể”, “không thể” để mô tả đúng khả năng xảy ra của một lần rút thẻ:

## BÀI 68: Chắc chắn. Có thể. Không thể

a) Thẻ được rút ra là thẻ ghi số 0.

**Có thể**

b) Thẻ được rút ra là thẻ ghi số 1.

**Có thể**

c) Thẻ được rút ra là thẻ ghi số 10.

**Không thể**

3. Khoanh vào chữ đặt trước câu trả lời đúng.

Trong hộp có 4 quả bóng đá. Không nhìn vào hộp, Nam lấy 1 quả bóng từ bên trong chiếc hộp đó.

a) Khả năng để Nam lấy được 1 quả bóng đá là:

A. Chắc chắn    **B. Có thể**    C. Không thể

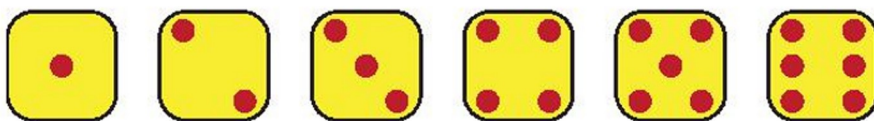
b) Khả năng để Nam lấy được 1 quả bóng rổ là:

A. Chắc chắn    B. Có thể    **C. Không thể**



4. Khoanh vào chữ đặt trước câu trả lời đúng.

Mai gieo một xúc xắc có 6 mặt như sau:



Khả năng số chấm xuất hiện trên xúc xắc là:

a) 4 chấm:

A. Chắc chắn    **B. Có thể**    C. Không thể

b) ít hơn 7 chấm:

**A. Chắc chắn**    B. Có thể    C. Không thể

c) Nhiều hơn 7 chấm:

A. Chắc chắn    B. Có thể    **C. Không thể**