

# BÀI 59: Phép trừ không nhớ các số trong phạm vi 1000

1. Tính:

$$\begin{array}{r} 743 \\ - 212 \\ \hline \end{array}$$

.....

$$\begin{array}{r} 397 \\ - 274 \\ \hline \end{array}$$

.....

$$\begin{array}{r} 195 \\ - 74 \\ \hline \end{array}$$

.....

$$\begin{array}{r} 509 \\ - 3 \\ \hline \end{array}$$

.....

2. Đặt tính rồi tính:

a.  $358 - 247$

.....  
.....  
.....

b.  $738 - 407$

.....  
.....  
.....

c.  $179 - 69$

.....  
.....  
.....

d.  $968 - 8$

.....  
.....  
.....

3. Nối phép tính với số thích hợp:

$600 - 300$

300

$586 - 86$

$900 - 400$

500

$1000 - 500$

$300 + 200$

600

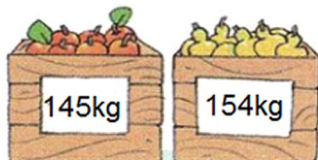
$200 + 500$

$800 - 200$

700

$300 + 300$

4. Thùng cam cân nặng 145kg, thùng lê cân nặng 154kg. Hỏi cả hai thùng cân nặng bao nhiêu ki-lô-gam?



Bài giải

.....  
.....  
.....

# BÀI 59: Phép trừ không nhớ các số trong phạm vi 1000

1. Tính:

$$\begin{array}{r} 743 \\ - 212 \\ \hline 531 \\ \hline \end{array}$$

$$\begin{array}{r} 397 \\ - 274 \\ \hline 123 \\ \hline \end{array}$$

$$\begin{array}{r} 195 \\ - 74 \\ \hline 121 \\ \hline \end{array}$$

$$\begin{array}{r} 509 \\ - 3 \\ \hline 506 \\ \hline \end{array}$$

2. Đặt tính rồi tính:

a.  $358 - 247$

$$\begin{array}{r} 358 \\ - 247 \\ \hline 111 \\ \hline \end{array}$$

b.  $738 - 407$

$$\begin{array}{r} 738 \\ - 407 \\ \hline 331 \\ \hline \end{array}$$

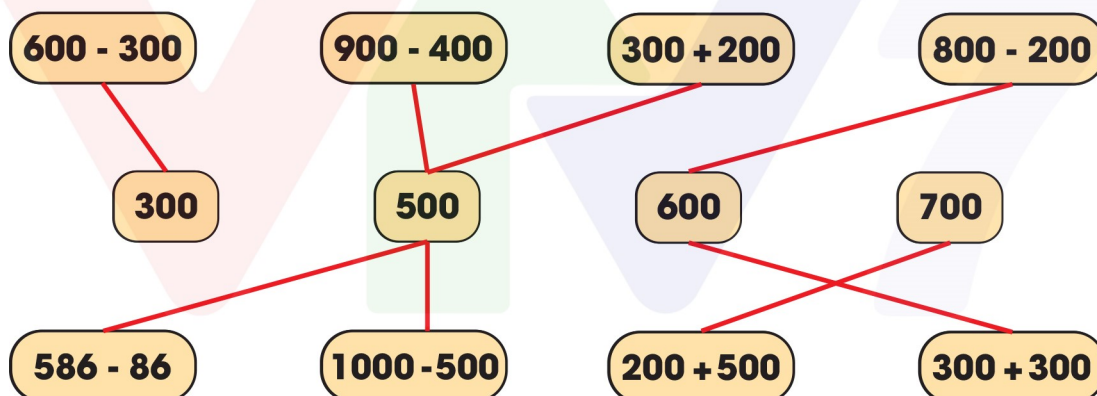
c.  $179 - 69$

$$\begin{array}{r} 179 \\ - 69 \\ \hline 110 \\ \hline \end{array}$$


d.  $968 - 8$

$$\begin{array}{r} 968 \\ - 8 \\ \hline 960 \\ \hline \end{array}$$

3. Nối phép tính với số thích hợp:



4. Thùng cam cân nặng 145kg, thùng lê cân nặng 154kg. Hỏi cả hai thùng cân nặng bao nhiêu ki-lô-gam?



**Bài giải**

**Phép tính:  $145 + 154 = 299$**

**Trả lời: Cả hai thùng cân nặng 299 ki-lô-gam.**