


BÀI 47: Thực hành lắp ghép, xếp hình

1. Tô màu đỏ vào các hình cầu, tô màu xanh vào các hình trụ:



2. Viết số thích hợp vào chỗ chấm:

Hình bên được lắp ghép bởi :

..... khối trụ.

..... khối cầu.

..... khối hộp chữ nhật.

..... khối lập phương.



BÀI 47: Thực hành lắp ghép, xếp hình

3. Viết số thích hợp vào chỗ chấm :

Hình bên được lắp ghép bởi :

..... khối trụ.

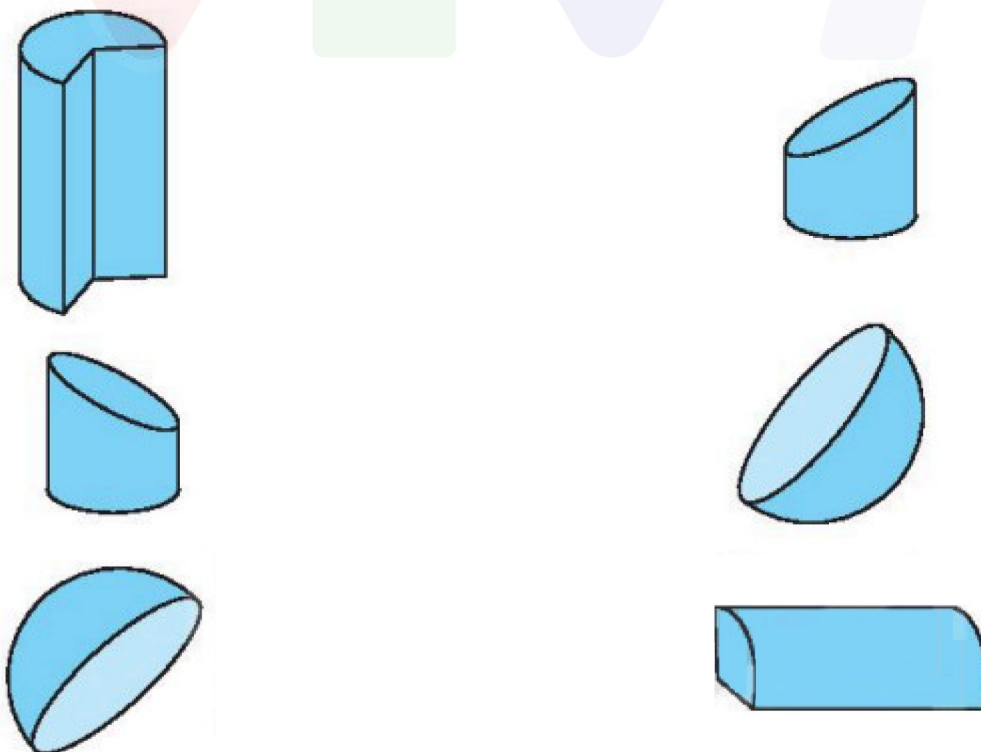
..... khối cầu.

..... khối hộp chữ nhật.

..... khối lập phương.

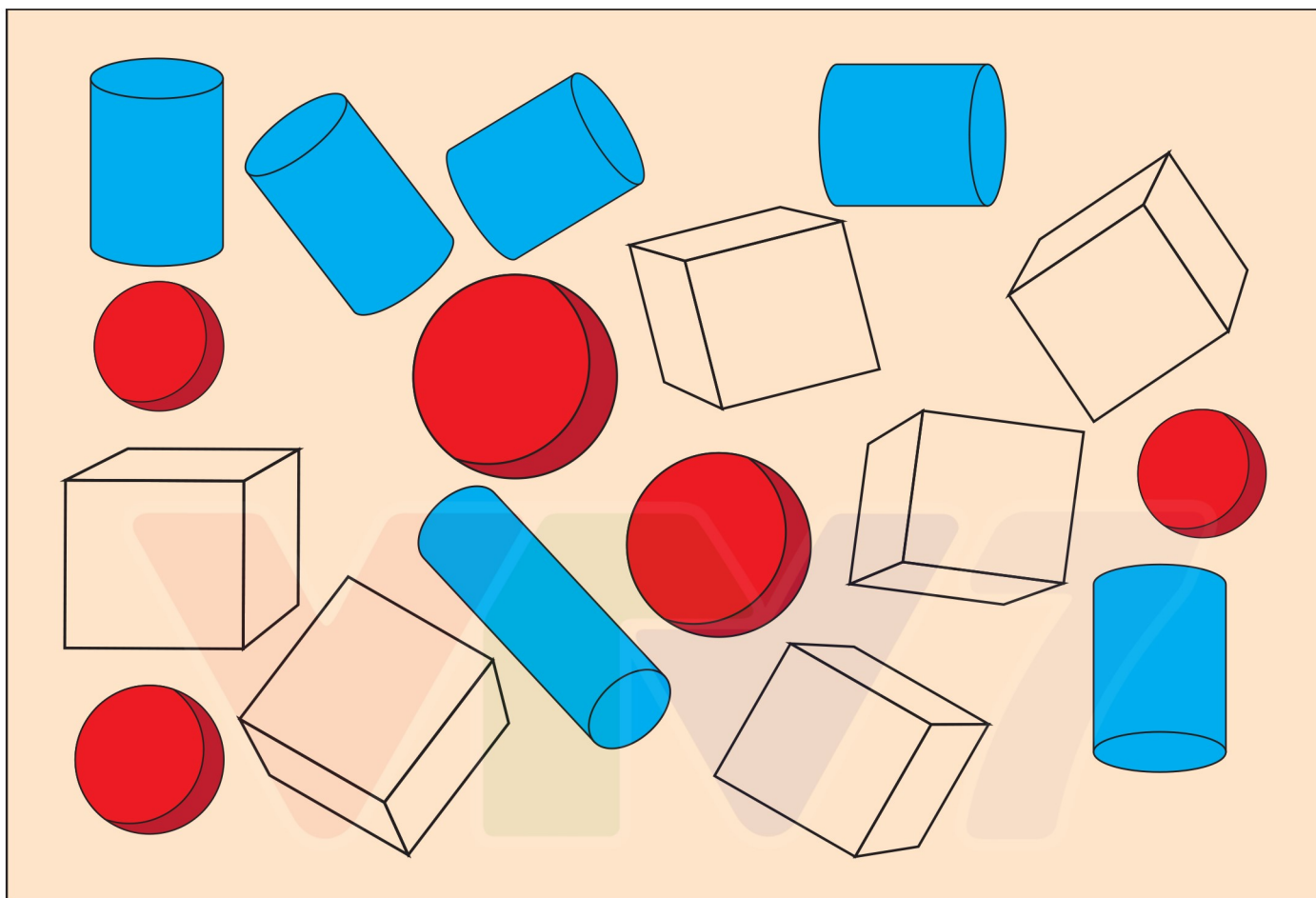


4. Nối hai hình để ghép thành một khối cầu hoặc một khối trụ.



BÀI 47: Thực hành lắp ghép, xếp hình

1. Tô màu đỏ vào các hình cầu, tô màu xanh vào các hình trụ:



2. Viết số thích hợp vào chỗ chấm:

Hình bên được lắp ghép bởi :

...10... khối trụ.

...3... khối cầu.

...1... khối hộp chữ nhật.

...2... khối lập phương.



BÀI 47: Thực hành lắp ghép, xếp hình

3. Viết số thích hợp vào chỗ chấm :

Hình bên được lắp ghép bởi :

..... 6 khối trụ.

..... 0 khối cầu.

..... 8 khối hộp chữ nhật.

..... 6 khối lập phương.



4. Nối hai hình để ghép thành một khối cầu hoặc một khối trụ.

