
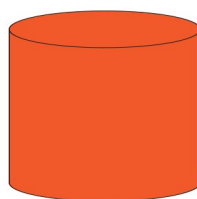
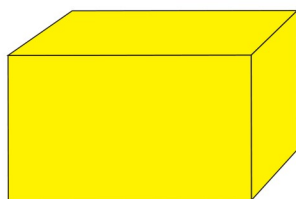
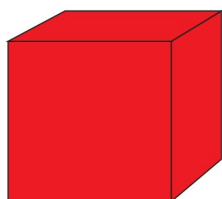


BÀI 46: Khối trụ. Khối cầu

1. Viết tên hình thích hợp:



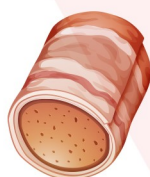
.....

.....

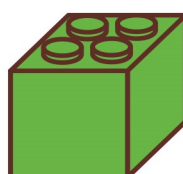


.....

.....

2. Khoanh vào các đồ vật có dạng hình trụ:



3. Khoanh vào các đồ vật có dạng hình cầu:



BÀI 46: Khối trụ. Khối cầu

4. Mỗi vật dưới đây có dạng hình gì? Nối mỗi vật với tên hình thích hợp:



Khối hộp chữ nhật


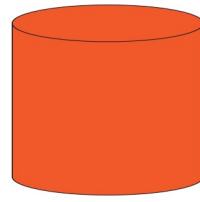
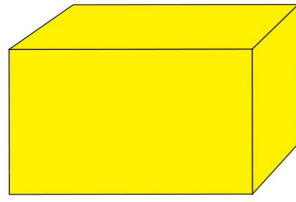
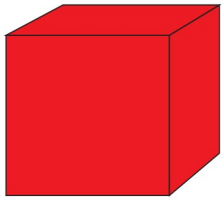
Khối lập phương

Khối trụ

Khối cầu

BÀI 46: Khối trụ. Khối cầu

1. Viết tên hình thích hợp:



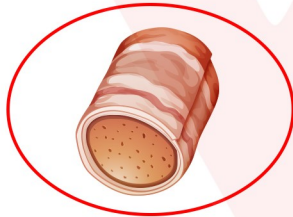

Hình lập phương

Hình chữ nhật

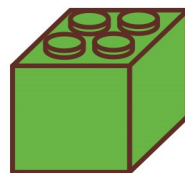



Hình trụ

Hình cầu

2. Khoanh vào các đồ vật có dạng hình trụ:



3. Khoanh vào các đồ vật có dạng hình cầu:



BÀI 46: Khối trụ. Khối cầu

4. Mỗi vật dưới đây có dạng hình gì? Nối mỗi vật với tên hình thích hợp:

Khối hộp chữ nhật **Khối lập phương** **Khối trụ** **Khối cầu**