



1. Nối rồi viết phép chia thích hợp (theo mẫu).

Mẫu: Có 8 quả táo, xếp đều vào 4 giỏ, mỗi giỏ được 2 quả táo



Ta có phép chia: $8 : 4 = 2$

a) Có 6 bông hoa cắm đều vào 3 lọ, mỗi lọ có bông hoa



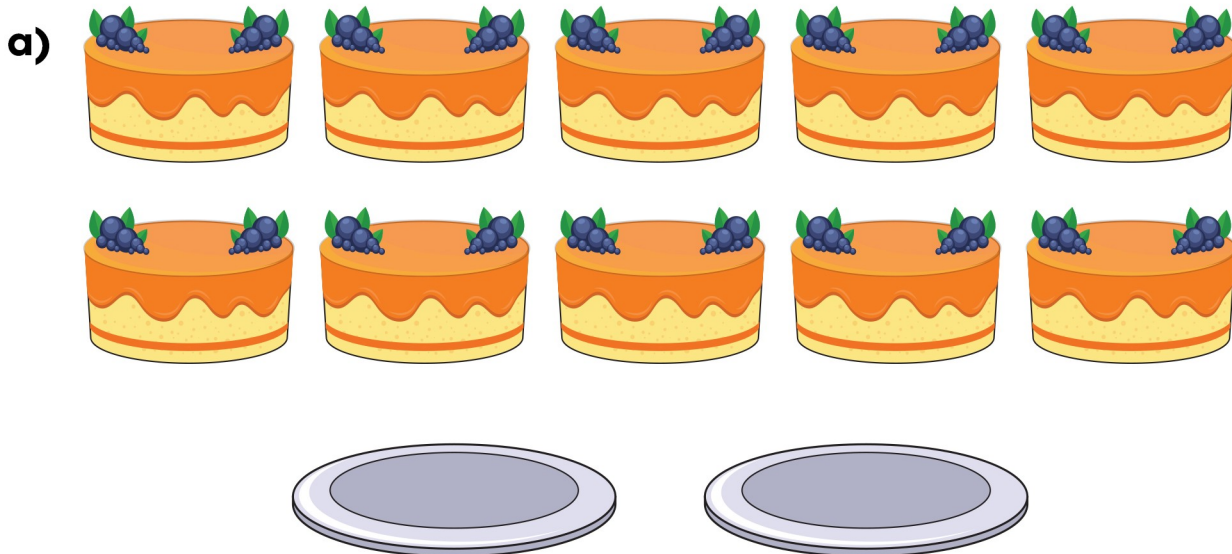
Ta có phép chia:

b) Có 6 quả chuối chia đều cho 2 chú khỉ, mỗi chú khỉ được quả chuối



Ta có phép chia:


2. Xem hình vẽ rồi viết phép chia thích hợp:



Có 10 chiếc bánh, chia đều vào 2 đĩa. Mỗi hộp có chiếc bánh.

Ta có phép chia:

b)




Có 15 củ cà rốt, chia đều cho 5 chú thỏ. Mỗi chú thỏ có củ cà rốt.

Ta có phép chia:


1. Nối rồi viết phép chia thích hợp (theo mẫu).

Mẫu: Có 8 quả táo, xếp đều vào 4 giỏ, mỗi giỏ được 2 quả táo




Ta có phép chia: $8 : 4 = 2$

a) Có 6 bông hoa cắm đều vào 3 lọ, mỗi lọ có² bông hoa



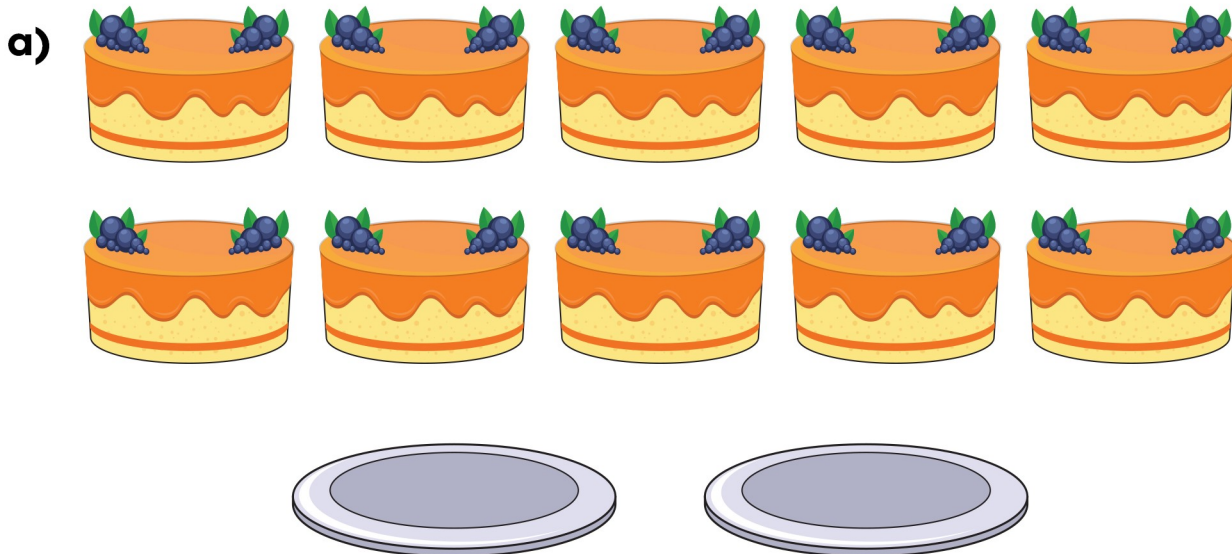
Ta có phép chia: $6 : 3 = 2$

b) Có 6 quả chuối chia đều cho 2 chú khỉ, mỗi chú khỉ được³ quả chuối



Ta có phép chia: $6 : 2 = 3$


2. Xem hình vẽ rồi viết phép chia thích hợp:



Có 10 chiếc bánh, chia đều vào 2 đĩa. Mỗi hộp có⁵ chiếc bánh.

Ta có phép chia: $10 : 2 = 5$

b)



Có 15 củ cà rốt, chia đều cho 5 chú thỏ. Mỗi chú thỏ có³ củ cà rốt.

Ta có phép chia: $15 : 5 = 3$