

BÀI 4: Ôn tập về đo lường

1. Ngày được đánh dấu bởi tờ lịch sau là ngày nào:

- A. Ngày 2 tháng 5
- B. Ngày 2 tháng 4
- C. Ngày 5 tháng 4
- D. Ngày 5 tháng 2



2. Một tuần lễ có số ngày là:

- A. 1 ngày
- B. 5 ngày
- C. 7 ngày
- D. 10 ngày

3. Khoanh tròn vào chữ đặt trước đồng hồ chỉ 12 giờ:



A.



B.



C.



D.

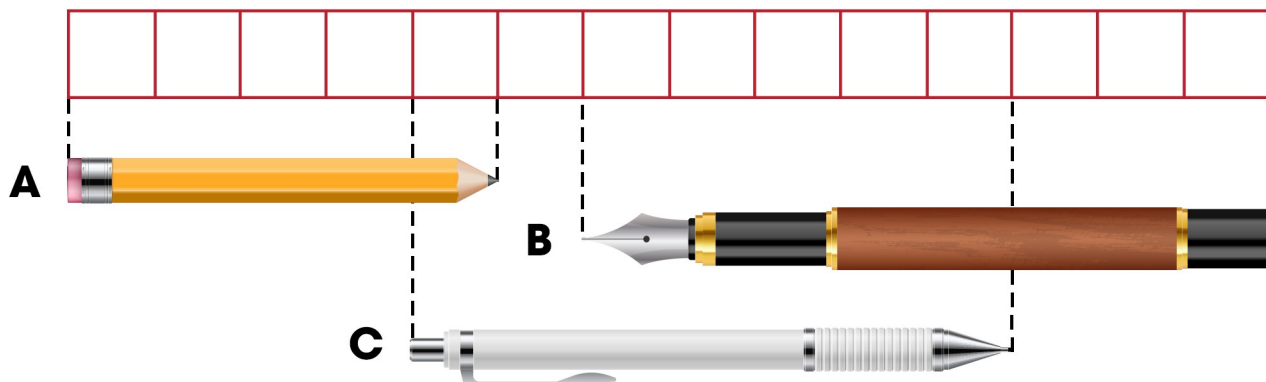
4. Đúng ghi Đ, sai ghi S:



Đồng hồ chỉ 10 giờ

Đồng hồ chỉ 12 giờ

5. Khoanh vào chữ đặt trước đáp án đúng:



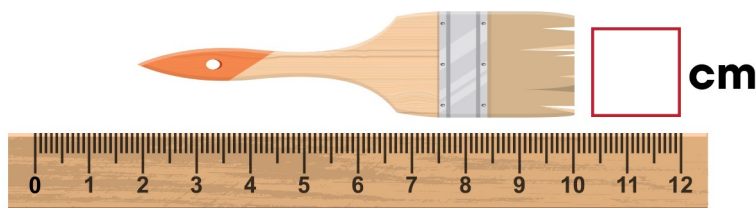


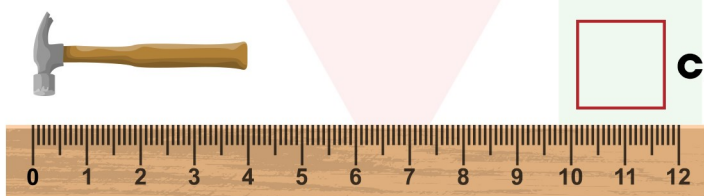

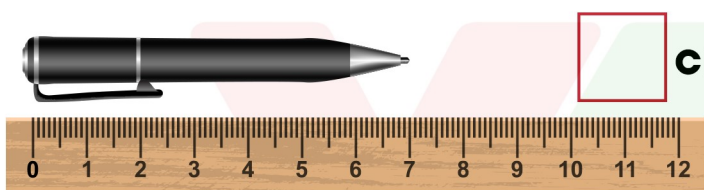
A. Chiếc bút A dài hơn chiếc bút C

C. Chiếc bút C ngắn nhất

B. Chiếc bút C dài hơn chiếc bút B

D. Chiếc bút B dài nhất

6. Số ?

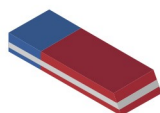


7. Ước lượng rồi nối số đo độ dài với đồ vật thích hợp:

3 cm

40 cm

15 cm



BÀI 4: Ôn tập về đo lường

1. Ngày được đánh dấu bởi tờ lịch sau là ngày nào:

A. Ngày 2 tháng 5

B. Ngày 2 tháng 4

C. Ngày 5 tháng 4

D. Ngày 5 tháng 2



2. Một tuần lễ có số ngày là:

A. 1 ngày

B. 5 ngày

C. 7 ngày

D. 10 ngày

3. Khoanh tròn vào chữ đặt trước đồng hồ chỉ 12 giờ:



A.



B.



C.



D.

4. Đúng ghi Đ, sai ghi S:

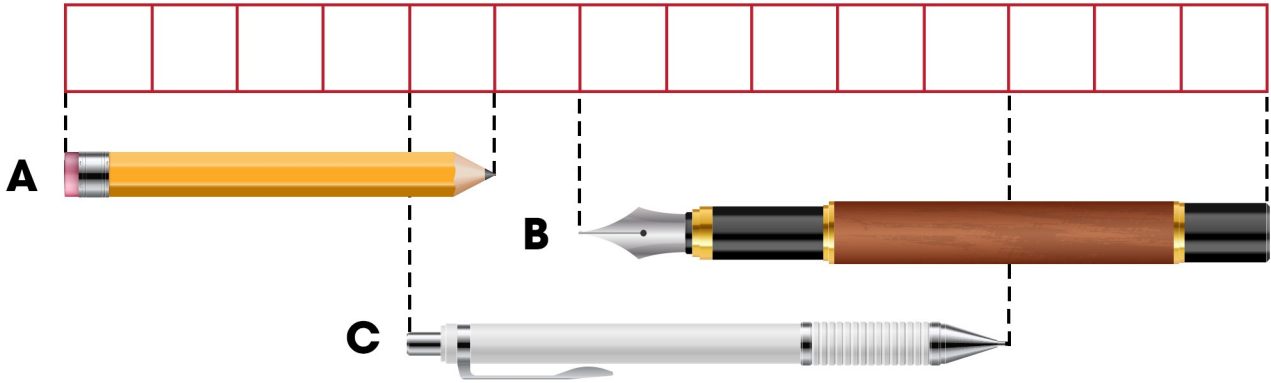


S Đồng hồ chỉ 10 giờ

S Đồng hồ chỉ 12 giờ

BÀI 4: Ôn tập về đo lường

5. Khoanh vào chữ đặt trước đáp án đúng:



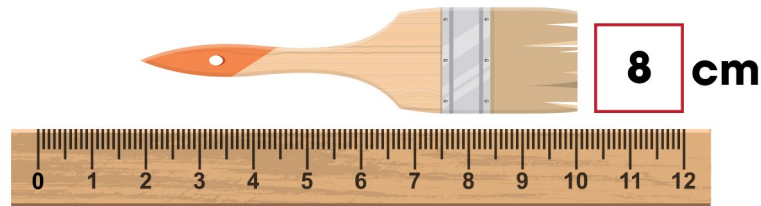




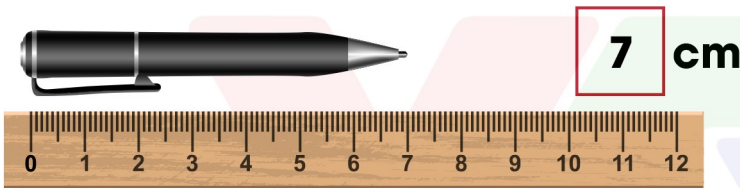
A. Chiếc bút A dài hơn chiếc bút C

C. Chiếc bút C ngắn nhất

B. Chiếc bút C dài hơn chiếc bút B

D. Chiếc bút B dài nhất

6. Số ?



7. Ước lượng rồi nối số đo độ dài với đồ vật thích hợp:

