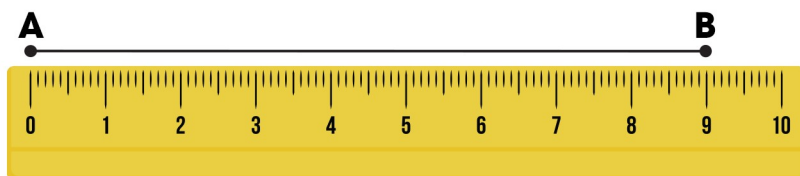
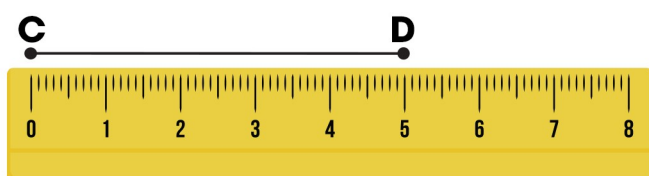


# BÀI 30: Độ dài đoạn thẳng. Vẽ đoạn thẳng có độ dài cho trước.

1. Viết số đo độ dài mỗi đoạn thẳng sau vào chỗ chấm:




Đoạn thẳng AB dài .....



Đoạn thẳng CD dài .....

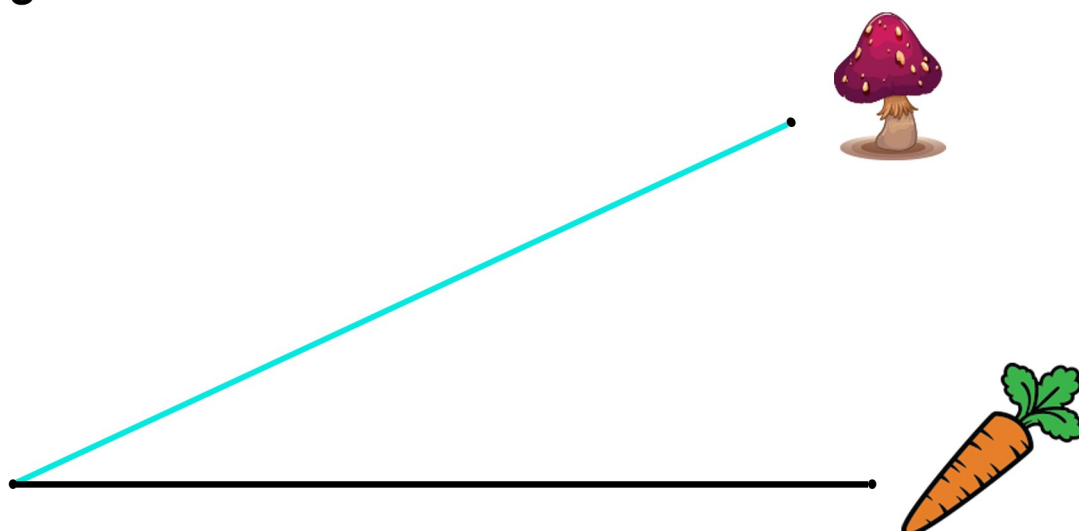
2. a) Vẽ đoạn thẳng AB có độ dài 8 cm; vẽ đoạn thẳng CD dài hơn đoạn thẳng AB là 2 cm.



b) Trong hai đoạn thẳng vừa vẽ được ở câu a đoạn thẳng nào có độ dài là 1 dm.

Trả lời: .....

3. Ước lượng rồi đo.



# BÀI 30: Độ dài đoạn thẳng. Vẽ đoạn thẳng có độ dài cho trước.

a) Ước lượng (đánh dấu  vào ý kiến đúng).

Đường đi màu đen ngắn hơn

Đường đi màu đen và màu xanh dài bằng nhau

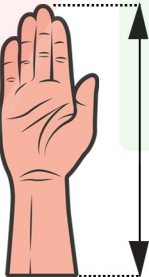
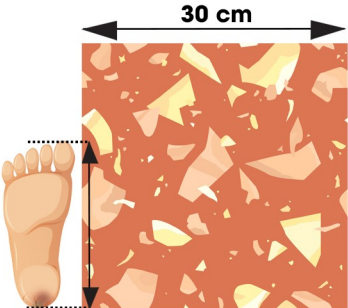

Đường đi màu xanh ngắn hơn

b) Đo rồi viết số vào chỗ chấm.

Đường màu xanh dài ..... cm.

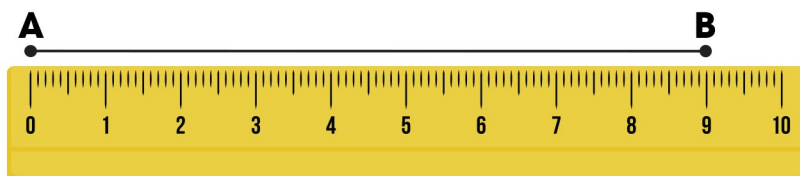
Đường màu đen dài ..... cm.

4. Đúng ghi Đ, sai ghi S.

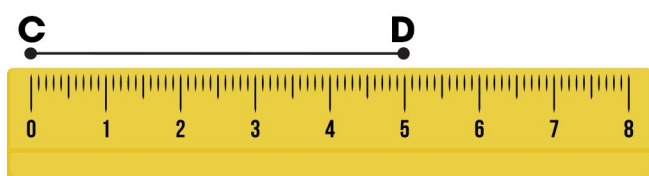
Vật cần đo	Ước lượng	Đo
	Khoảng 3 dm <input type="checkbox"/>	45 cm <input type="checkbox"/>
	Khoảng 2 dm <input type="checkbox"/>	18 cm <input type="checkbox"/>
	Khoảng 3 gang tay <input type="checkbox"/>	5 dm <input type="checkbox"/>

# BÀI 30: Độ dài đoạn thẳng. Vẽ đoạn thẳng có độ dài cho trước.

1. Viết số đo độ dài mỗi đoạn thẳng sau vào chỗ chấm:



Đoạn thẳng AB dài **..8.cm..**



Đoạn thẳng CD dài **..5.cm..**

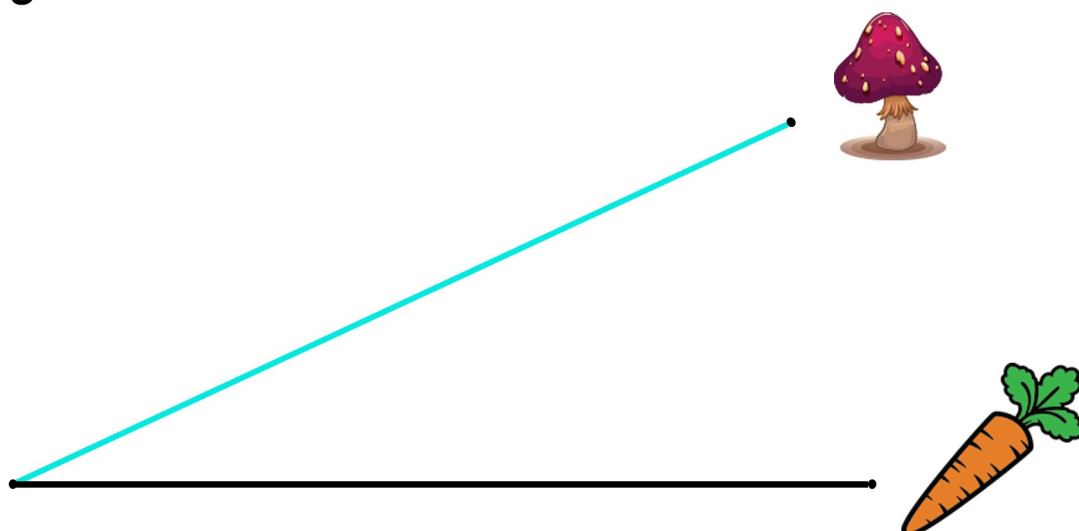
2. a) Vẽ đoạn thẳng AB có độ dài 8 cm; vẽ đoạn thẳng CD dài hơn đoạn thẳng AB là 2 cm.



b) Trong hai đoạn thẳng vừa vẽ được ở câu a đoạn thẳng nào có độ dài là 1 dm.

Trả lời: **Đoạn thẳng CD**.....

3. Ước lượng rồi đo.



# BÀI 30: Độ dài đoạn thẳng. Vẽ đoạn thẳng có độ dài cho trước.

a) Ước lượng (đánh dấu  vào ý kiến đúng).

Đường đi màu đen ngắn hơn

Đường đi màu đen và màu xanh dài bằng nhau

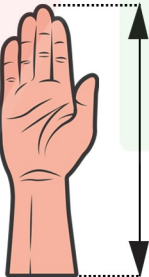
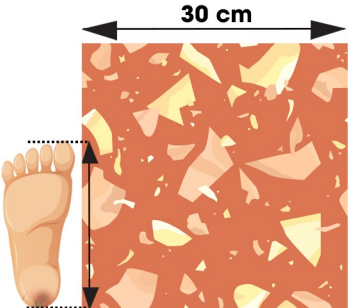

Đường đi màu xanh ngắn hơn

b) Đo rồi viết số vào chỗ chấm.

Đường màu xanh dài ...**8**... cm.

Đường màu đen dài ...**10**... cm.

4. Đúng ghi Đ, sai ghi S.

Vật cần đo	Ước lượng	Đo
	Khoảng 3 dm <input type="checkbox"/>	45 cm <input type="checkbox"/>
	Khoảng 2 dm <input type="checkbox"/>	18 cm <input type="checkbox"/>
	Khoảng 3 gang tay <input type="checkbox"/>	5 dm <input type="checkbox"/>