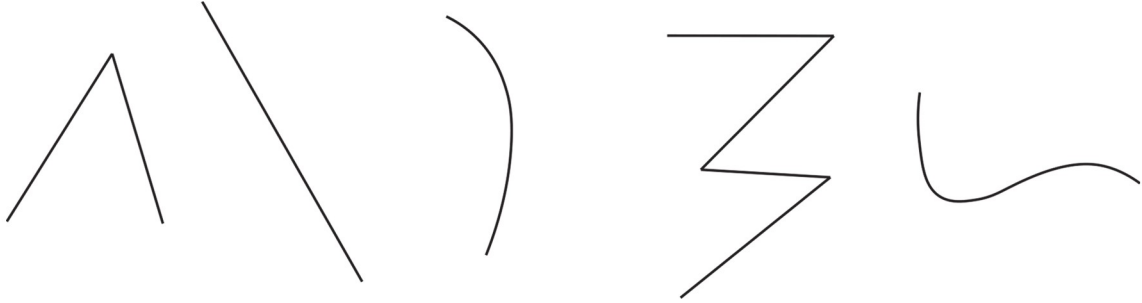


# BÀI 29: Đường thẳng. Đường cong. Đường gấp khúc

1. a) Nối mỗi hình với tên gọi thích hợp:

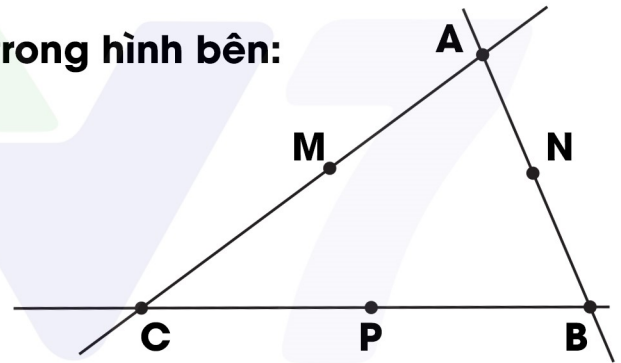


đường thẳng

đường gấp khúc

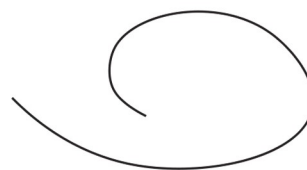
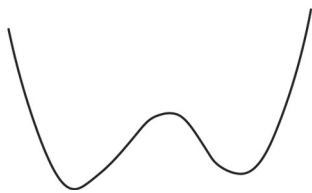


đường cong

b) Viết tên ba điểm thẳng hàng trong hình bên:



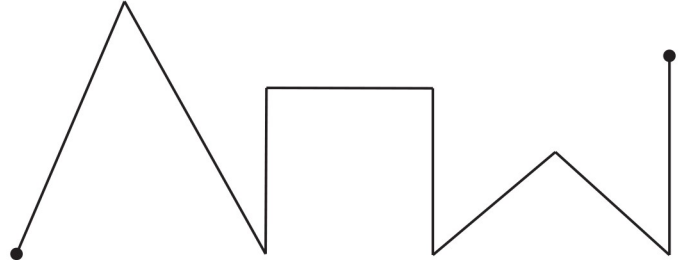
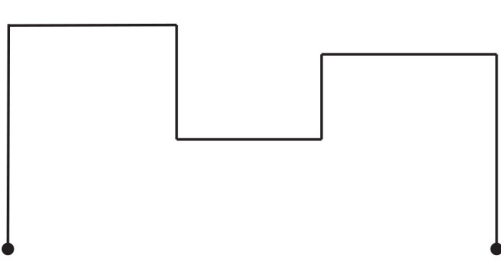
2. Viết tên hình vào chỗ chấm cho thích hợp:

a) Viết tên thích hợp vào chỗ chấm:



# BÀI 29: Đường thẳng. Đường cong. Đường gấp khúc

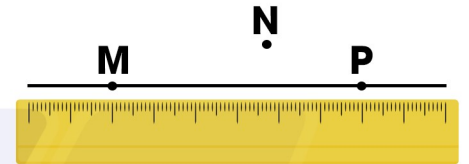
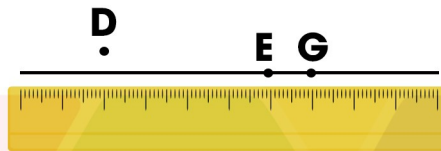
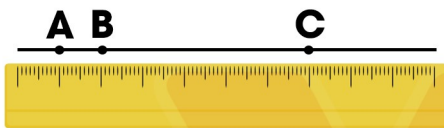
b) Mỗi đường gấp khúc sau gồm mấy đoạn thẳng?



.....

.....

3. Đ, S?



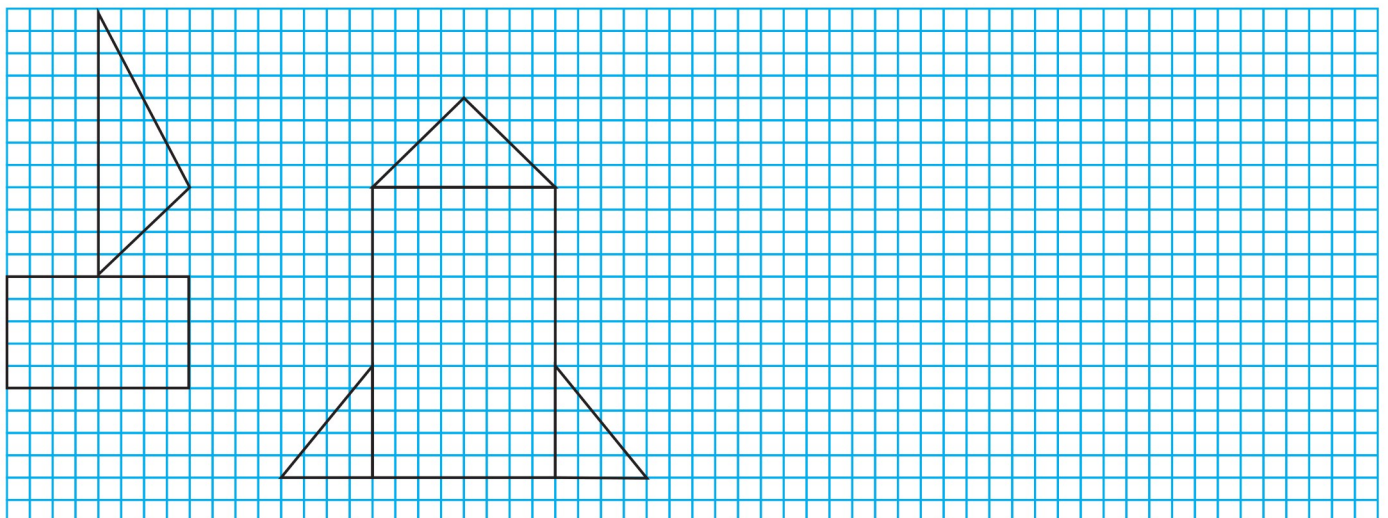
Trong hình vẽ trên:

Ba điểm D, E, G thẳng hàng.

Ba điểm M, N, P thẳng hàng.

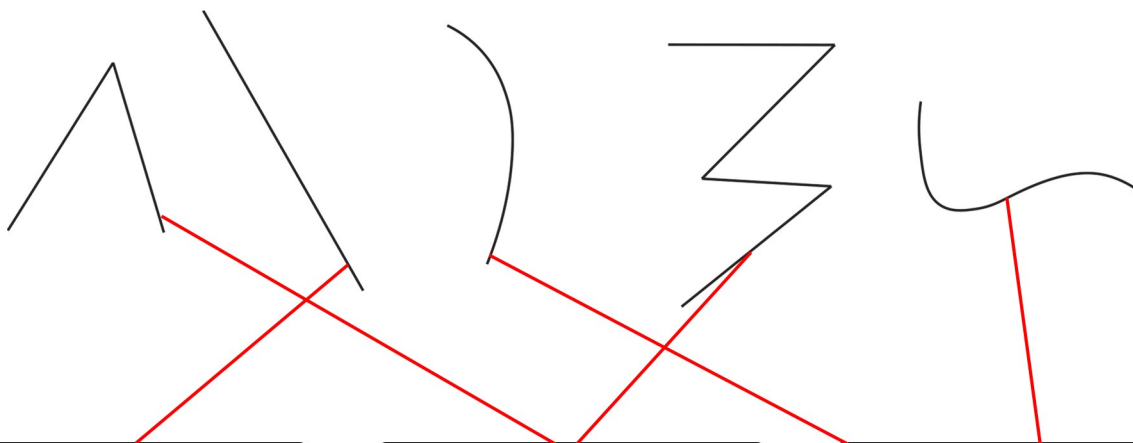
Ba điểm A, B, C thẳng hàng.

4. Vẽ (theo mẫu).



# BÀI 29: Đường thẳng. Đường cong. Đường gấp khúc

1. a) Nối mỗi hình với tên gọi thích hợp:



đường thẳng

đường gấp khúc

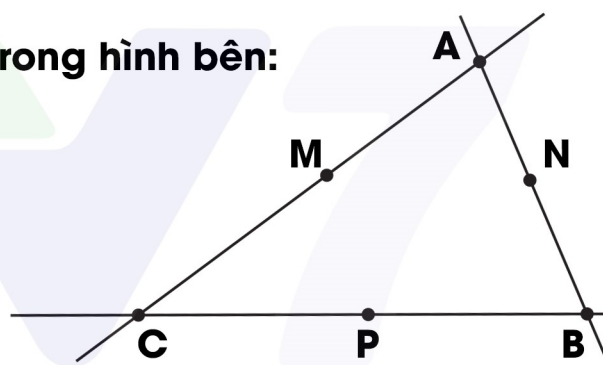
đường cong

b) Viết tên ba điểm thẳng hàng trong hình bên:

.....**Điểm A, điểm M, điểm C**.....


.....**Điểm A, điểm N, điểm B**.....

.....**Điểm C, điểm P, điểm B**.....

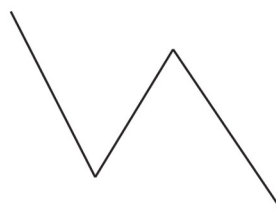


2. Viết tên hình vào chỗ chấm cho thích hợp:

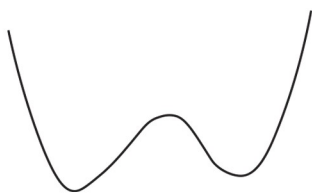
a) Viết tên thích hợp vào chỗ chấm:



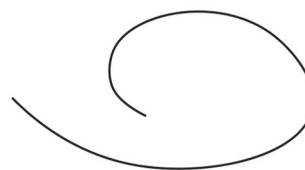
.....**đường thẳng**.....



.....**đường gấp khúc**.....



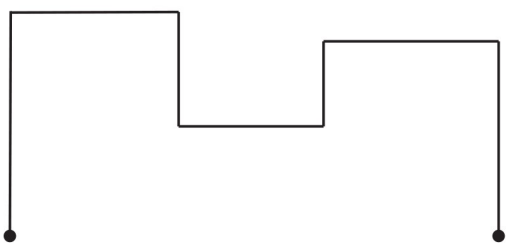
.....**đường cong**.....



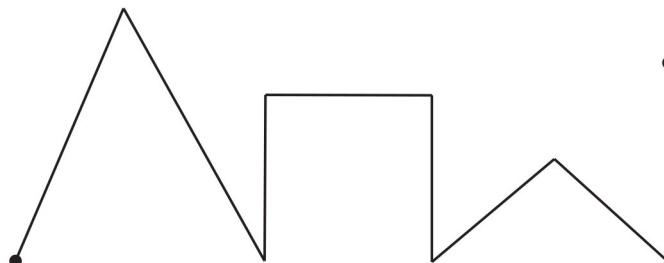
.....**đường cong**.....

# BÀI 29: Đường thẳng. Đường cong. Đường gấp khúc

b) Mỗi đường gấp khúc sau gồm mấy đoạn thẳng?

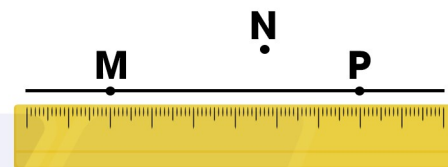
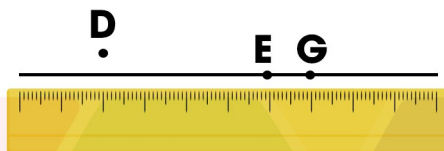



.....**7 đoạn thẳng**.....



.....**8 đoạn thẳng**.....

3. Đ, S?



Trong hình vẽ trên:

Ba điểm D, E, G thẳng hàng.  S

Ba điểm M, N, P thẳng hàng.  S

Ba điểm A, B, C thẳng hàng.  Đ

4. Vẽ (theo mẫu).

