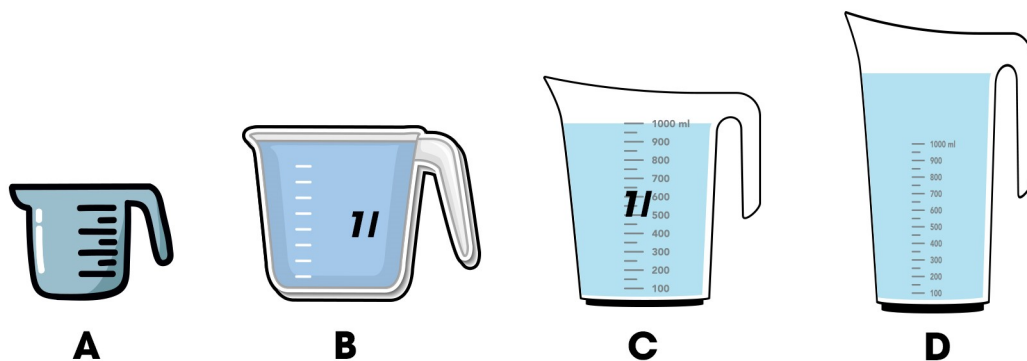


BÀI 26: Lít

1. Quan sát hình rồi viết Đ (đúng), S (sai) vào ô trống.




a) Bình D đựng nhiều hơn 1 l nước.

b) Cốc A đựng ít hơn 1 l nước.

c) Bình C đựng lượng nước bằng lượng nước ở bình B.

d) Cốc A đựng lượng nước nhiều hơn bình D.

2. a) Nối (theo mẫu).



Mười lít

Ba lít

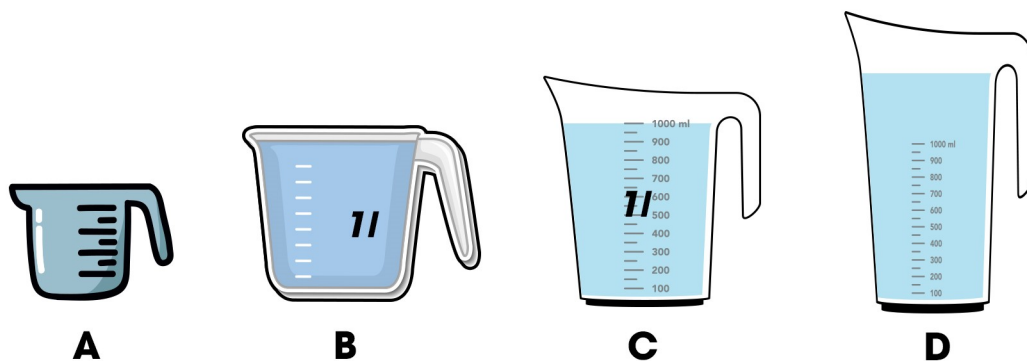
Hai mươi lít

Năm lít

b) Trong các đồ vật ở câu a: Tô màu đỏ vào đồ vật chứa được nhiều nhất, màu xanh lá vào đồ vật chứa được ít nhất.

BÀI 26: Lít

1. Quan sát hình rồi viết Đ (đúng), S (sai) vào ô trống.



a) Bình D đựng nhiều hơn 1 l nước.

Đ

b) Cốc A đựng ít hơn 1 l nước.

Đ

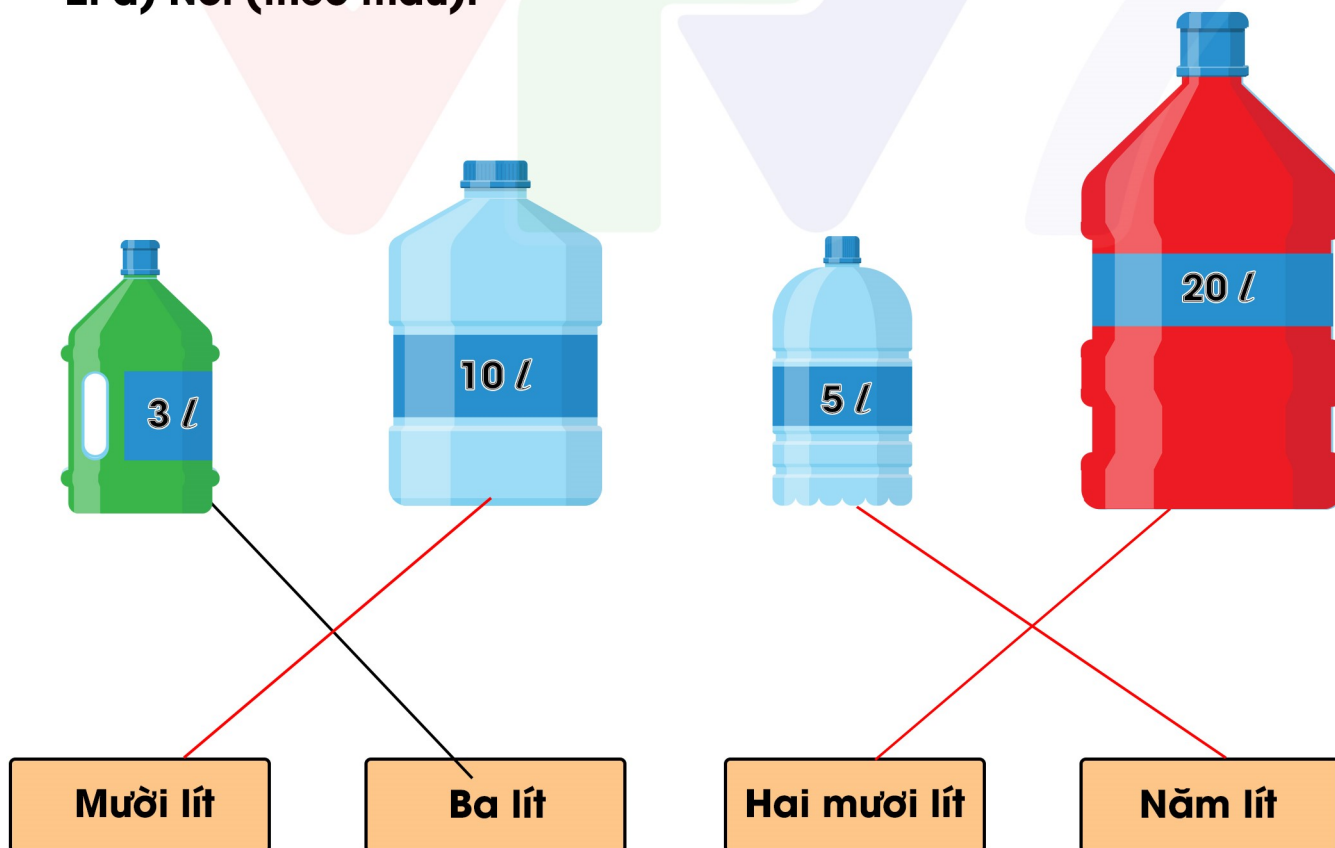
c) Bình C đựng lượng nước bằng lượng nước ở bình B.

Đ

d) Cốc A đựng lượng nước nhiều hơn bình D.

S

2. a) Nối (theo mẫu).



b) Trong các đồ vật ở câu a: Tô màu đỏ vào đồ vật chứa được nhiều nhất, màu xanh lá vào đồ vật chứa được ít nhất.

BÀI 26: Lít

3. Số?



32 l

4. Bình nước đang đựng 5 l nước. Hỏi phải đổ thêm bao nhiêu lít nước nữa thì đầy bình



Trả lời: Phải đổ thêm ...**5**... l nước nữa thì đầy can.

5. Bình sữa to có 23 l sữa, bình sữa nhỏ có ít hơn bình sữa to 8 l sữa. Hỏi bình sữa nhỏ có bao nhiêu lít sữa.

Bài giải

Bình sữa nhỏ có số lít sữa là:									
$23 - 8 = 15$ (lít)									
Đáp số: 15 (lít)									