


BÀI 22: Phép trừ 52 - 24

5. Tại mỗi ngã rẽ, Nhím sẽ đi theo con đường ghi phép tính có kết quả lớn hơn. Nhím sẽ đến chỗ món ăn nào ?



Bài giải:

Nhím đi theo con đường có các phép tính.....


Và phép tính gặp món ăn là

BÀI 22: Phép trừ 52 - 24

1. Đặt tính rồi tính:

a. 52 - 26	b. 43 - 18	c. 65 - 29	d. 44 - 37	e. 64 - 28
$\begin{array}{r} 52 \\ - 26 \\ \hline 26 \end{array}$	$\begin{array}{r} 43 \\ - 18 \\ \hline 25 \end{array}$	$\begin{array}{r} 65 \\ - 29 \\ \hline 36 \end{array}$	$\begin{array}{r} 44 \\ - 37 \\ \hline 7 \end{array}$	$\begin{array}{r} 64 \\ - 28 \\ \hline 36 \end{array}$

2. Điền số thích hợp vào chỗ chấm.



$\begin{array}{r} \dots 81 \\ - 29 \\ \hline 52 \end{array}$	$\begin{array}{r} 85 \\ - 26 \\ \hline 59 \end{array}$	$\begin{array}{r} 63\dots \\ - 18 \\ \hline 45 \end{array}$
--	--	---

3. Bài toán:

Bình xăng một ô tô có 32 lít xăng. Ô tô đã đi một quãng đường hết 15 lít xăng. Hỏi bình xăng của ô tô đó còn lại bao nhiêu lít xăng?

Bài giải

Bình xăng của ô tô đó còn lại số lít xăng là :									
32 - 15 = 17 (l)									
Đáp số : 17 lít									

4. Bài toán:

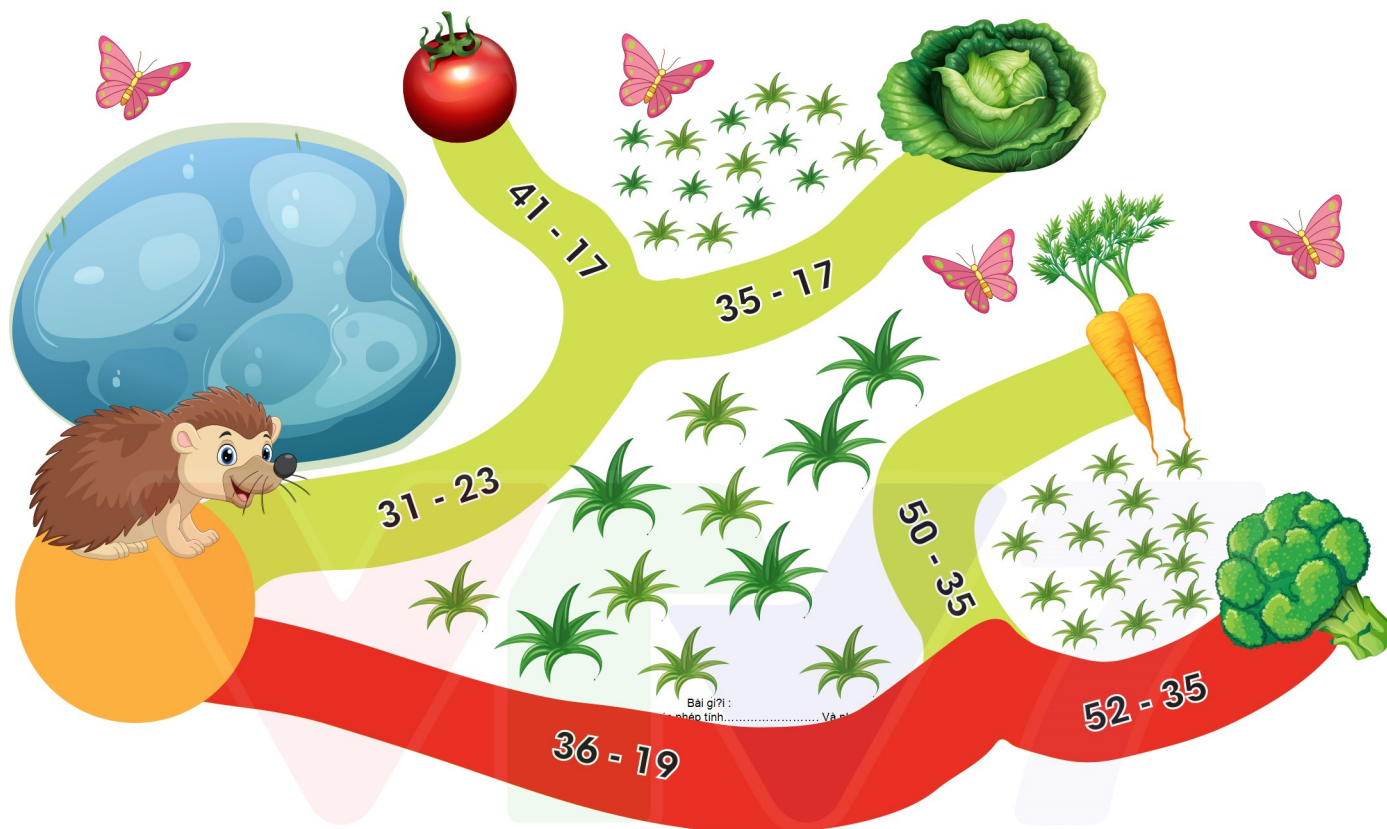
Mẹ mua cho em một bộ truyện tranh Đô-rê-mon có 45 quyển, em đã đọc được 18 quyển. Hỏi còn mấy cuốn trong bộ truyện tranh đó em chưa đọc?

Bài giải

Số cuốn truyện trong bộ truyện tranh đó em chưa đọc là :									
45 - 18 = 27 (cuốn)									
Đáp số : 27 cuốn									

BÀI 22: Phép trừ 52 - 24

5. Tại mỗi ngã rẽ, Nhím sẽ đi theo con đường ghi phép tính có kết quả lớn hơn. Nhím sẽ đến chỗ món ăn nào ?



Bài giải:

Nhím đi theo con đường có các phép tính..... **$36 - 19 = 17$**

Và phép tính **$52 - 35 = 17$** gặp món ăn là **súp lơ**.....