

# BÀI 4: So sánh các số trong phạm vi 10

1. a) Nối (theo mẫu), rồi đánh dấu vào nhóm nhiều hơn:

		<input type="checkbox"/>	<input checked="" type="checkbox"/>
		<input type="checkbox"/>	<input type="checkbox"/>
		<input type="checkbox"/>	<input type="checkbox"/>

b) Đánh dấu (x) vào nhóm ít hơn, đánh dấu (o) vào nhóm nhiều hơn:

		<input type="checkbox"/>	<input type="checkbox"/>
		<input type="checkbox"/>	<input type="checkbox"/>

2. Viết số và dấu >, <, = thích hợp vào ô trống (theo mẫu):

--	--	--

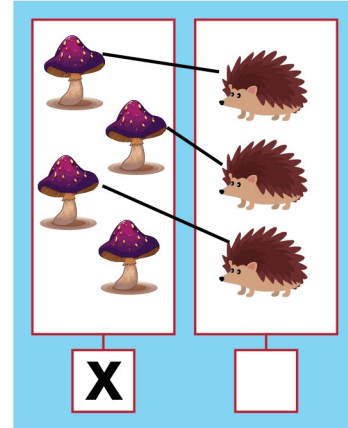

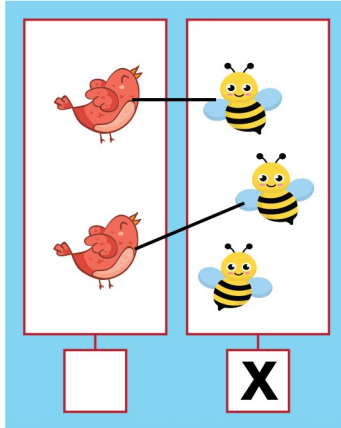
**3** > **1**

**4**  **3**

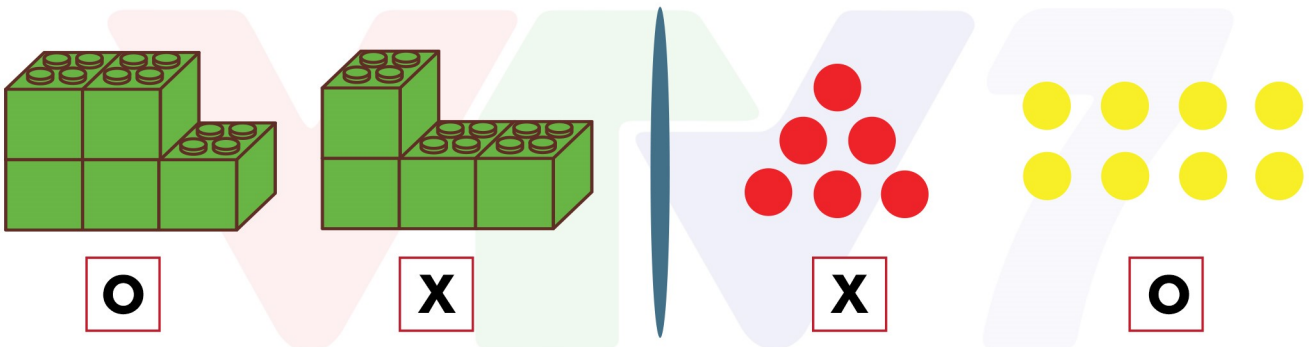


## BÀI 4: So sánh các số trong phạm vi 10


1. a) Nối (theo mẫu), rồi đánh dấu vào nhóm nhiều hơn:




b) Đánh dấu (x) vào nhóm ít hơn, đánh dấu (o) vào nhóm nhiều hơn:



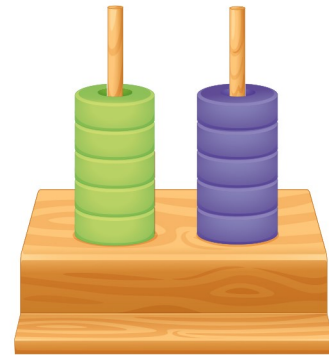
2. Viết số và dấu >, <, = thích hợp vào ô trống (theo mẫu):



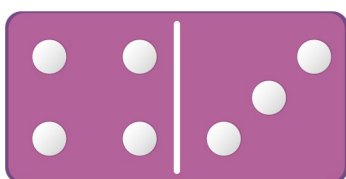
**3 > 1**



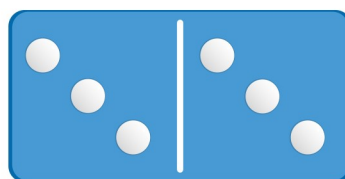
**6 < 7**




**5 = 5**



**4 > 3**



**3 = 3**



**6 > 2**

