

BÀI 29: Đồng hồ, thời gian

1. Đồng hồ chỉ mấy giờ?




.....

.....


.....

.....

2. Vẽ thêm kim dài, kim ngắn để đồng hồ chỉ giờ đúng:




3 giờ




4 giờ




8 giờ



9 giờ



6 giờ



12 giờ

BÀI 29: Đồng hồ, thời gian

3. Quan sát tranh rồi viết thời gian tương ứng với từng hoạt động của Nam (theo mẫu).

 	 												
 	 												
 	<table border="1"> <thead> <tr> <th colspan="2">HOẠT ĐỘNG</th> </tr> </thead> <tbody> <tr> <td>Nam ngủ dậy</td> <td>6 giờ</td> </tr> <tr> <td>Nam đánh răng</td> <td></td> </tr> <tr> <td>Nam ăn trưa</td> <td></td> </tr> <tr> <td>Nam rửa tay</td> <td></td> </tr> <tr> <td>Nam gấp quần áo</td> <td></td> </tr> </tbody> </table>	HOẠT ĐỘNG		Nam ngủ dậy	6 giờ	Nam đánh răng		Nam ăn trưa		Nam rửa tay		Nam gấp quần áo	
HOẠT ĐỘNG													
Nam ngủ dậy	6 giờ												
Nam đánh răng													
Nam ăn trưa													
Nam rửa tay													
Nam gấp quần áo													

BÀI 29: Đồng hồ, thời gian

1. Đồng hồ chỉ mấy giờ?



5 giờ
.....



11 giờ
.....



2 giờ
.....



10 giờ
.....

2. Vẽ thêm kim dài, kim ngắn để đồng hồ chỉ giờ đúng:



3 giờ




4 giờ



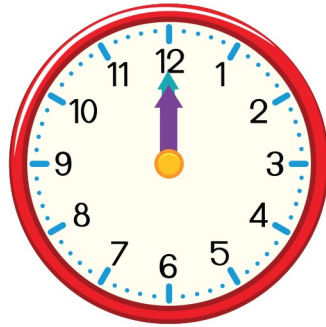
8 giờ



9 giờ



6 giờ



12 giờ

BÀI 29: Đồng hồ, thời gian

3. Quan sát tranh rồi viết thời gian tương ứng với từng hoạt động của Nam (theo mẫu).

 	 										
 	 										
 	<p style="text-align: center;">HOẠT ĐỘNG</p> <table border="1"> <tbody> <tr> <td>Nam ngủ dậy</td> <td>6 giờ</td> </tr> <tr> <td>Nam đánh răng</td> <td>7 giờ</td> </tr> <tr> <td>Nam ăn trưa</td> <td>11 giờ</td> </tr> <tr> <td>Nam rửa tay</td> <td>9 giờ</td> </tr> <tr> <td>Nam gấp quần áo</td> <td>10 giờ</td> </tr> </tbody> </table>	Nam ngủ dậy	6 giờ	Nam đánh răng	7 giờ	Nam ăn trưa	11 giờ	Nam rửa tay	9 giờ	Nam gấp quần áo	10 giờ
Nam ngủ dậy	6 giờ										
Nam đánh răng	7 giờ										
Nam ăn trưa	11 giờ										
Nam rửa tay	9 giờ										
Nam gấp quần áo	10 giờ										