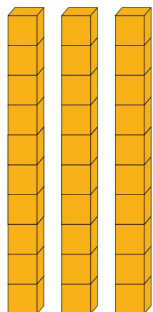



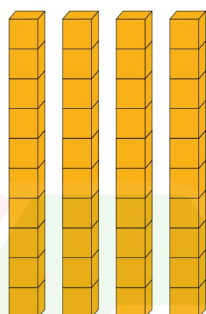


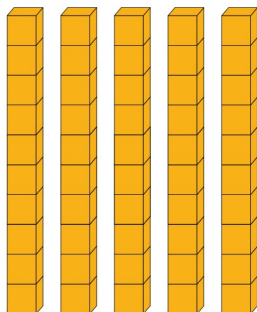
BÀI 21: Các số 10, 20,, 90

1. Đếm, đọc, viết các số sau (theo mẫu):




30

Ba mươi





2. Khoanh vào các nhóm 10 quả rồi viết số thích hợp (theo mẫu):

Mẫu:



40

Bốn mươi



BÀI 21: Các số 10, 20,, 90

3. Viết số thích hợp vào ô trống:


a)

10	20	30						
----	----	----	--	--	--	--	--	--


b)

90	80	70						
----	----	----	--	--	--	--	--	--

4. a) Khoanh vào 30 quả cầu lông:



b) Tô màu vào 50 cây nến:



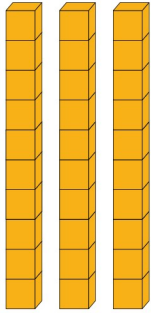
5. Số?



Có tất cả bông hoa

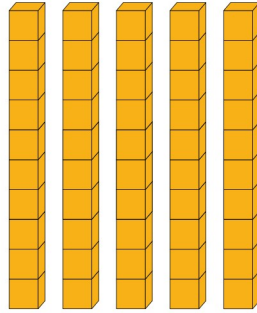
BÀI 21: Các số 10, 20,, 90

1. Đếm, đọc, viết các số sau (theo mẫu):



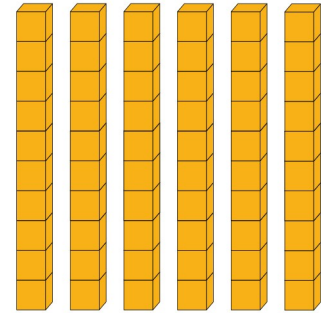
30

Ba mươi




50

Năm mươi



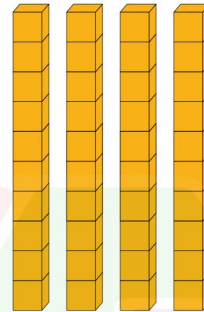
60

Sáu mươi




70

Bảy mươi



40

Bốn mươi




90

Chín mươi


2. Khoanh vào các nhóm 10 quả rồi viết số thích hợp (theo mẫu):

Mẫu:




40

Bốn mươi



60

Sáu mươi



30

Ba mươi

BÀI 21: Các số 10, 20,, 90

3. Viết số thích hợp vào ô trống:


a)

10	20	30	40	50	60	70	80	90
----	----	----	----	----	----	----	----	----


b)

90	80	70	60	50	40	30	20	10
----	----	----	----	----	----	----	----	----

4. a) Khoanh vào 30 quả cầu lông:



b) Tô màu vào 50 cây nến:



5. Số?



Có tất cả bông hoa