

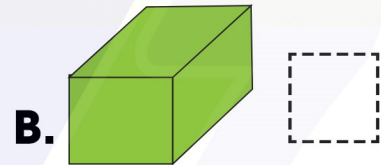
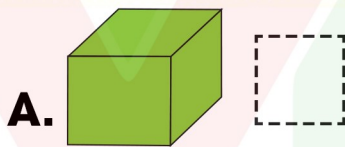
BÀI 18: Hình vuông, hình tròn hình tam giác, hình chữ nhật

1. Tô màu xanh vào khối hộp chữ nhật, tô màu đỏ vào khối lập phương :

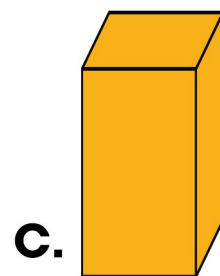
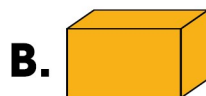
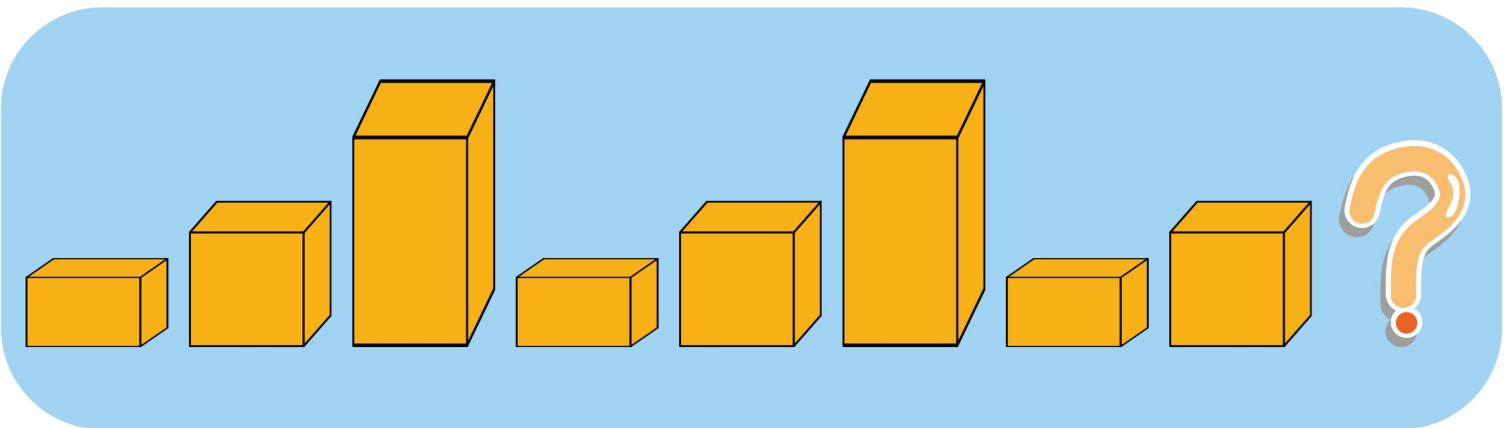


BÀI 18: Hình vuông, hình tròn hình tam giác, hình chữ nhật

2. SỐ?




3. Khoanh vào chữ đặt trước câu trả lời đúng?



BÀI 18: Hình vuông, hình tròn hình tam giác, hình chữ nhật

1. Tô màu xanh vào khối hộp chữ nhật, tô màu đỏ vào khối lập phương :



BÀI 18: Hình vuông, hình tròn hình tam giác, hình chữ nhật

2. SỐ?



- A.  7
- B.  4

3. Khoanh vào chữ đặt trước câu trả lời đúng?

