



BÀI 10: Phép cộng trong phạm vi 10

1. Số?



	+		=	
--	---	--	---	--



	+		=	
--	---	--	---	--



	+		=	
--	---	--	---	--



	+		=	
--	---	--	---	--




	+		=	
--	---	--	---	--



	+		=	
--	---	--	---	--

BÀI 10: PHÉP CỘNG TRONG PHẠM VI 10

2. Nối phép tính với kết quả thích hợp:




3. Quan sát tranh viết phép tính thích hợp:




BÀI 10: Phép cộng trong phạm vi 10

1. SỐ?



$$3 + 2 = 5$$



$$6 + 2 = 8$$



$$2 + 4 = 6$$




$$2 + 2 = 4$$



$$5 + 5 = 10$$



$$3 + 2 = 5$$



BÀI 10: PHÉP CỘNG TRONG PHẠM VI 10

2. Nối phép tính với kết quả thích hợp:

3. Quan sát tranh viết phép tính thích hợp: